

Thứ năm ngày 5 tháng 12 năm 2024

Chủ đề: PHÉP CỘNG, PHÉP TRỪ TRONG PHẠM VI 10

Bài: Phép trừ trong phạm vi 10

(tiếp theo) – Tiết 2

Giáo viên: Đào Thị Liễu



LUYỆN TẬP



2

Chọn kết quả đúng với mỗi phép tính :

5

1

2

4

$5 - 1$

$4 - 2$

$9 - 4$

$6 - 5$

6

0

3

9

$8 - 5$


$6 - 6$

$10 - 4$

$9 - 0$



Nêu phép trừ thích hợp với mỗi tranh vẽ :



10

?

?

=

9

9

?

2

=

?




VẬN DỤNG





Kể các tình huống trong thực tế liên quan đến phép trừ trong phạm vi 10 :




KHỈ CON QUA SÔNG



Bắt đầu

CHÚC MỪNG



← Trở về

$$8 - 2 = 6$$

$$8 - 2 = ?$$



← Trở về

Số 8

Số nào ở giữa số 7
và số 9 ?



Trở về

$$9 - 4 = 5$$

$$9 - \dots = 5 ?$$



← Trở về

A. Bằng nhau

Số ngón tay như thế nào
với số ngón chân ?

A. Bằng nhau B. Ít hơn



← Trở về

$$10 - 0 = 10$$

$$10 - \dots = 10$$



Trở về

$$10 - 2 = 8$$

$$10 - \dots = 8 ?$$



← Trở về

$$7 - 5 = 2$$

$$\dots - 5 = 2 ?$$



← Trở về

$$10 - 3 = 7$$

$$10 - 3 = \dots ?$$



Trở về

$$8 - 3 = 5$$

$$8 - 3 = \dots ?$$

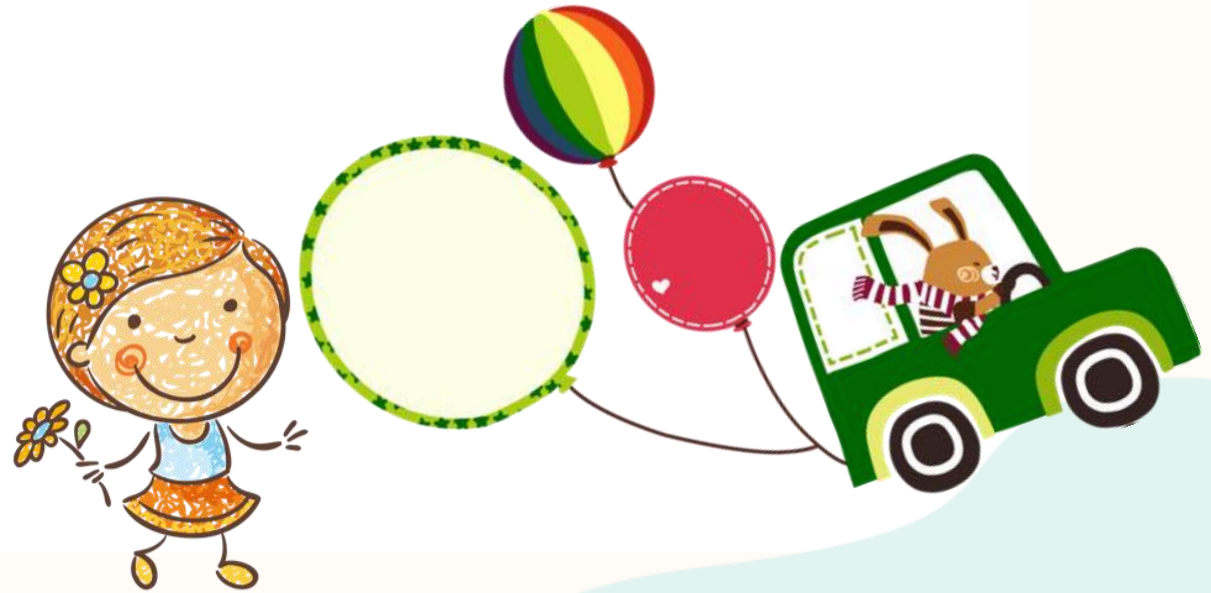


← Trở về

$$4 = 6 - 2$$

$$4 = 6 - \dots$$







Chúc các em học tốt!

